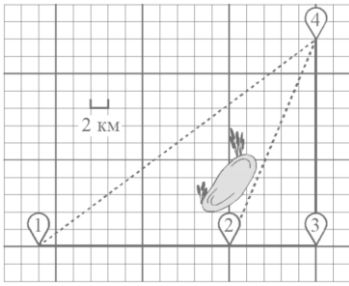


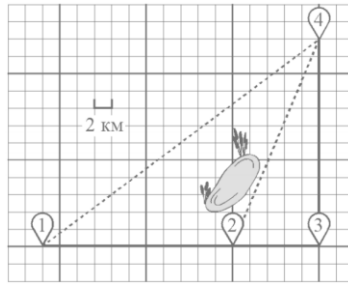
Задание 2. Какую информацию можно извлечь из рисунка?



Маршрут: _____

Расстояние в клетках: _____

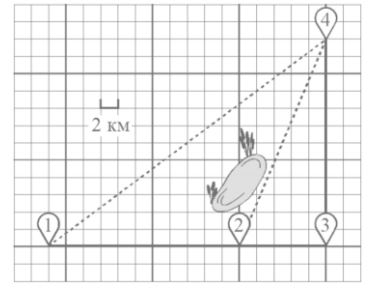
Расстояние в километрах: _____



Маршрут: _____

Расстояние в клетках: _____

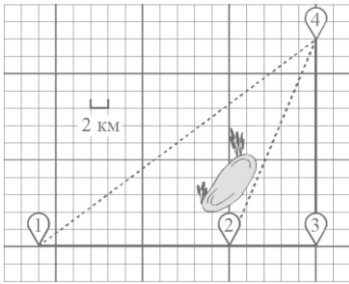
Расстояние в километрах: _____



Маршрут: _____

Расстояние в клетках: _____

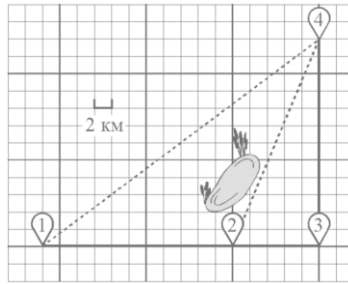
Расстояние в километрах: _____



Маршрут: _____

Расстояние в клетках: _____

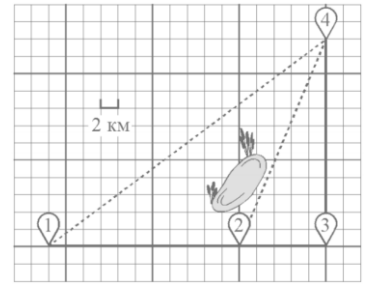
Расстояние в километрах: _____



Маршрут: _____

Расстояние в клетках: _____

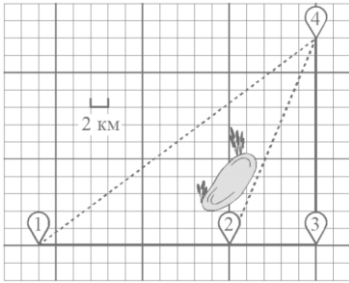
Расстояние в километрах: _____



Маршрут: _____

Расстояние в клетках: _____

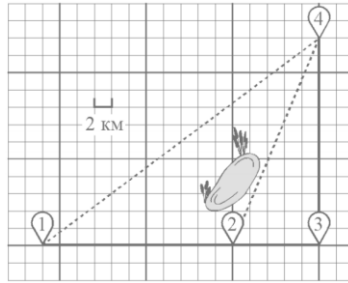
Расстояние в километрах: _____



Маршрут: _____

Расстояние в клетках: _____

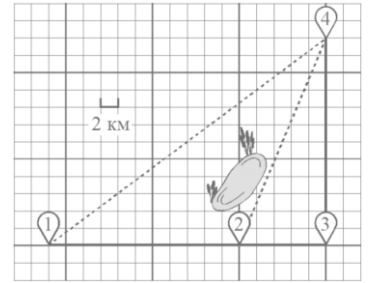
Расстояние в километрах: _____



Маршрут: _____

Расстояние в клетках: _____

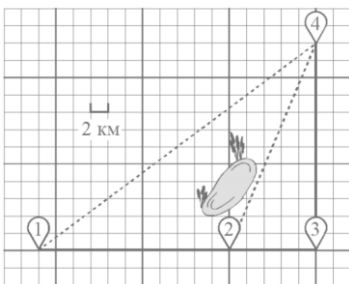
Расстояние в километрах: _____



Маршрут: _____

Расстояние в клетках: _____

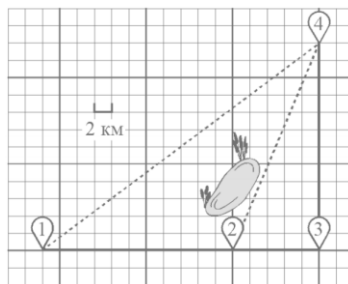
Расстояние в километрах: _____



Маршрут: _____

Расстояние в клетках: _____

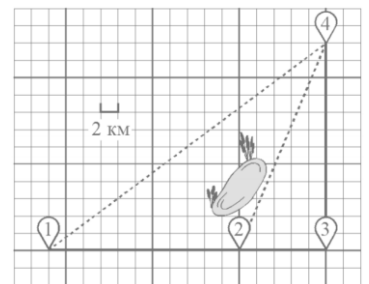
Расстояние в километрах: _____



Маршрут: _____

Расстояние в клетках: _____

Расстояние в километрах: _____



Маршрут: _____

Расстояние в клетках: _____

Расстояние в километрах: _____